



Sèrie 1

Criteris generals per a la correcció:

1. En tots els casos la resolució que fa l'estudiant s'ha de poder seguir i comprendre els passos que fa. Aquelles respostes, parcials o totals, que no estiguin desenvolupades o no es pugui seguir el com s'ha arribat a donar la resolució seran puntuades amb 0 punts.
2. La resolució proposada és, en alguns casos, una de les possibles i no és, en principi, única. Per tant, sempre que l'enunciat ho permeti, en el cas que l'estudiant respongui amb una resolució alternativa totalment correcta se li assignarà el total de puntuació de l'apartat. Si la resposta és parcial la puntuació obtinguda serà proporcional a la part corresponent de la puntuació total.
3. En alguns casos, la solució final pot admetre expressions equivalents. En aquests casos la puntuació serà la totalitat de la puntuació de l'apartat.
4. Tots els exercicis, apartats i passos dins d'un apartat es valoraran amb múltiples de 0,25 punts.
5. Penalització per errades de càlcul o transcripció:
6. Si l'errada que es comet no té més transcendència, aleshores NO es descomptarà res de la puntuació parcial de l'apartat.
7. En el cas que l'errada condueixi a derivacions paral·leles de l'enunciat, es valorarà i puntuarà el desenvolupament i coherència de la resolució resultant, i només s'aplicarà una penalització final de 0,25 punts.
8. En cas que l'errada condueixi a no tenir sentit alguna de les qüestions que es demanen, aleshores la puntuació màxima de l'apartat serà de 0,75 punts.
9. Si la resolució d'un apartat conté dues errades la puntuació de l'apartat serà l'acumulada fins al moment previ al cometre la segona errada.



1.

Resolució:

Si calculem les funcions derivades successives tenim:

$$f'(x) = 3ax^2 + 2bx + c; \quad f''(x) = 6ax + 2b$$

Si anem traduïnt en termes de f i f' les condicions de l'enunciat obtenim:

* f passa per $(1,0) \rightarrow f(1) = 0 \rightarrow a + b + c + d = 0$ (equació 1)

* $(1,0)$ és un punt d'inflexió $\rightarrow f''(1) = 0 \rightarrow 6a + 2b = 0$ (equació 2)

* El pendent de la tangent en $x = 1$ és igual a $-3 \rightarrow f'(1) = -3 \rightarrow 3a + 2b + c = -3$ (equació 3)

* f té un extrem en $x = 0 \rightarrow f'(0) = 0 \rightarrow c = 0$ (equació 4)

Resolent el sistema format per les equacions (1), (2), (3) i (4), obtenim la solució al problema $\boxed{a = 1, b = -3, c = 0, d = 2}$.

Pautes de correcció:

0,5 punts per la traducció de cadascuna de les quatre condicions.

0,5 punts per la resolució final del sistema.



2.

Resolució:

a)

$$A \cdot B = \begin{pmatrix} 2 & -3 & -5 \\ -1 & 4 & 5 \\ 1 & -3 & -4 \end{pmatrix} \cdot \begin{pmatrix} 2 & 2 & 0 \\ -1 & -1 & 0 \\ 1 & 2 & 1 \end{pmatrix} = \begin{pmatrix} 2 & -3 & -5 \\ -1 & 4 & 5 \\ 1 & -3 & -4 \end{pmatrix} = A$$

$$B \cdot A = \begin{pmatrix} 2 & 2 & 0 \\ -1 & -1 & 0 \\ 1 & 2 & 1 \end{pmatrix} \cdot \begin{pmatrix} 2 & -3 & -5 \\ -1 & 4 & 5 \\ 1 & -3 & -4 \end{pmatrix} = \begin{pmatrix} 2 & 2 & 0 \\ -1 & -1 & 0 \\ 1 & 2 & 1 \end{pmatrix} = B$$

Observació: la resolució es donarà per bona encara que no apareguin els càlculs intermedis.

b) Sabem que (*) $C \cdot D = C$ i (**) $D \cdot C = D$

$$C^2 = C \cdot C \stackrel{(*)}{=} (C \cdot D) \cdot C = C \cdot (D \cdot C) \stackrel{(**)}{=} C \cdot D \stackrel{(*)}{=} C$$

$$D^2 = D \cdot D \stackrel{(**)}{=} (D \cdot C) \cdot D = D \cdot (C \cdot D) \stackrel{(*)}{=} D \cdot C \stackrel{(**)}{=} D$$

I, per tant, efectivament les dues matrius C i D són idempotents.

Pautes de correcció:

a) 0,75 punts pel càlcul del producte $A \cdot B$.

0,75 punts pel càlcul del producte $B \cdot A$.

b) 0,5 punts per la comprovació que la matriu C és idempotent.

0,5 punts per la comprovació que la matriu D és idempotent.



3.

Resolució:

$$\text{a) Integrant } f(x) = \begin{cases} \int (x-1)dx & \text{si } x < 2 \\ \int \frac{1}{x-1}dx & \text{si } x > 2 \end{cases} \rightarrow f(x) = \begin{cases} \frac{1}{2}x^2 - x + k & \text{si } x < 2 \\ \ln|x-1| + k' & \text{si } x > 2 \end{cases}$$

Troblem els valors de les constants k i k' :

- $f(x)$ passa pel punt $A = (0,3)$, per tant, $\frac{1}{2}0^2 - 0 + k = 3 \rightarrow k = 3$.
- Com que $f(x)$ és derivable, llavors és contínua, així que ho és en el punt d'abscissa 2 i, per tant, els límits laterals de la funció $f(x)$ en 2 han de coincidir:

$$\frac{1}{2}2^2 - 2 + 3 = \ln|2-1| + k'$$

$$k' = 3.$$

Per tant, la funció $f(x)$ serà $f(x) = \begin{cases} \frac{1}{2}x^2 - x + 3 & \text{si } x \leq 2 \\ \ln|x-1| + 3 & \text{si } x > 2 \end{cases}$

Observació: es puntuarà per igual l'expressió $\ln|x-1|$ que l'expressió $\ln(x-1)$.

Apliquem l'equació de la recta tangent a una funció $g(x)$ en el punt d'abscissa a :

$$y - g(a) = g'(a) \cdot (x - a)$$

Ara la funció és f' és $g(x) = \begin{cases} x-1 & \text{si } x \leq 2 \\ \frac{1}{x-1} & \text{si } x > 2 \end{cases}$ i $a = 3$.

Cal trobar $g'(x)$, $g'(3)$ i $g(3)$:

$$g'(x) = f''(x) = \begin{cases} 1 & \text{si } x < 2 \\ -\frac{1}{(x-1)^2} & \text{si } x > 2 \end{cases}, \quad g'(3) = -\frac{1}{4}, \quad g(3) = \frac{1}{2}$$

$$y - \frac{1}{2} = -\frac{1}{4} \cdot (x - 3) \rightarrow y = -\frac{1}{4}x + \frac{5}{4}$$



Pautes de correcció:

- a) 0,5 punts pel càlcul de les primitives.
0,25 punts pel càlcul de la constant k .
0,5 punts per argumentar la continuïtat de la funció f .
0,25 punts pel càlcul de la constant k' .
- b) 0,25 punts per la fórmula de la recta tangent.
0,25 punts pel càlcul de $f''(x) = g'(x)$.
0,25 punts pel càlcul de $g(3)$ i de $g'(3)$.
0,25 punts pel càlcul final de la recta tangent.



4.

Resolució:

a) Estudi del sistema d'equacions lineals segons els valors del paràmetre λ .

$$M|\overline{M} = \left(\begin{array}{ccc|c} 1 & 2\lambda & 2+\lambda & 0 \\ 2+\lambda & 1 & 2\lambda & 3 \\ 2\lambda & 2+\lambda & 1 & -3 \end{array} \right)$$

Calculem el determinant de la matriu del sistema i estudiem per a quins valors el determinant s'anul·la.

$$\begin{vmatrix} 1 & 2\lambda & 2+\lambda \\ 2+\lambda & 1 & 2\lambda \\ 2\lambda & 2+\lambda & 1 \end{vmatrix} = 9\lambda^3 + 9 = 9(\lambda^3 + 1)$$

Quan resollem l'equació $9(\lambda^3 + 1) = 0$, obtenim $\lambda^3 = -1$ i d'aquí $\lambda = -1$.

Per tant, tenim dos casos a discutir.

CAS I: $\lambda \neq -1$

Com que $|M| \neq 0$, aleshores $\text{Rang } M = 3 = \text{Rang } \overline{M} = \text{Nombre d'incògnites}$.

En virtut del teorema de Rouché-Frobenius, es tracta d'un sistema compatible determinat (SCD) i, per tant, el sistema té una única solució.

CAS II: $\lambda = -1$

$$M|\overline{M} = \left(\begin{array}{ccc|c} 1 & -2 & 1 & 0 \\ 1 & 1 & -2 & 3 \\ -2 & 1 & 1 & -3 \end{array} \right)$$

Com que $|M| = 0$, aleshores $\text{Rang } M < 3$, però en tenir $\begin{vmatrix} 1 & -2 \\ 1 & 1 \end{vmatrix} = 1 + 3 = 3 \neq 0$, aleshores $\text{Rang } M = 2$.

D'altra banda, si orlem l'anterior menor, $\begin{vmatrix} 1 & -2 & 0 \\ 1 & 1 & 3 \\ -2 & 1 & -3 \end{vmatrix} = -3 + 12 - 3 - 6 = 0$, per

tant, $\text{Rang } \overline{M} = 2$.

Aleshores, com que $\text{Rang } M = 2 = \text{Rang } \overline{M} < \text{Nombre d'incògnites} = 3$, es tracta d'un sistema compatible indeterminat (SCI) amb 1 (3-2) grau de llibertat .

Observació: de forma alternativa, el primer determinant es podria haver calculat utilitzant les propietats dels determinants.



$$\begin{aligned} \left| \begin{array}{ccc} 1 & 2\lambda & 2+\lambda \\ 2+\lambda & 1 & 2\lambda \\ 2\lambda & 2+\lambda & 1 \end{array} \right| &\stackrel{(*)}{=} \left| \begin{array}{ccc} 1 & 2\lambda & 2+\lambda \\ 2+\lambda & 1 & 2\lambda \\ 3+3\lambda & 3+3\lambda & 3+3\lambda \end{array} \right| = (3+3\lambda) \left| \begin{array}{ccc} 1 & 2\lambda & 2+\lambda \\ 2+\lambda & 1 & 2\lambda \\ 1 & 1 & 1 \end{array} \right| \\ &= 3(1+\lambda) \left| \begin{array}{ccc} 1 & 2\lambda & 2+\lambda \\ 2+\lambda & 1 & 2\lambda \\ 1 & 1 & 1 \end{array} \right| = 3(1+\lambda)(3\lambda^2 - 3\lambda + 3) = 9(1+\lambda)(\lambda^2 - \lambda + 1) \end{aligned}$$

(*) Sumant a la tercera fila les dues primeres files.

b)

Estudiem el cas $\lambda = -1$.

Sabem que es tracta d'un SCI amb un grau de llibertat i el menor d'ordre 2 no nul indica les equacions i les incògnites que ens hem de quedar:

$$\begin{cases} x - 2y = -z \\ x + y = 3 + 2z \end{cases}$$

Ara podem resoldre aplicant el mètode de Cramer

$$x = \frac{\begin{vmatrix} -z & -2 \\ 3+2z & 1 \end{vmatrix}}{\begin{vmatrix} 1 & -2 \\ 1 & 1 \end{vmatrix}} = \frac{3z+6}{3} = z+2$$

$$y = \frac{\begin{vmatrix} 1 & -z \\ 1 & 3+2z \end{vmatrix}}{\begin{vmatrix} 1 & -2 \\ 1 & 1 \end{vmatrix}} = \frac{3+3z}{3} = z+1$$

Solució: $\boxed{(x = z + 2, y = z + 1, z \text{ paràmetre})}$

Interpretació geomètrica: cadascuna de les equacions és un pla a \mathbb{R}^3 . El fet que la solució tingui un grau de llibertat ens indica que aquests tres plans es tallen en una recta, que és la formada per punts de la forma $(z + 2, z + 1, z)$.

Com que $(z + 2, z + 1, z) = (2, 1, 0) + z(1, 1, 1)$, la recta intersecció és la que passa pel punt $(2, 1, 0)$ i té vector director $(1, 1, 1)$.



Pautes de correcció:

- a) 0,25 punts per l'expressió de les matrius del sistema.
0,25 punts pel càlcul del determinant.
0,25 punts per tenir el punt singular que anul·la el determinant.
0,25 punts per la discussió del cas $\lambda \neq -1$.
0,25 punts per la discussió del cas $\lambda = -1$.
- b) 0,25 punts per la identificació del tipus de solució.
0,25 punts per la resolució de les incògnites x i y (o les que escaigui).
0,25 punts per l'expressió de la solució del sistema.
0,25 punts per indicar que els tres plans es tallen en una recta.
0,25 punts per identificar la recta solució.



5.

Resolució:

a) El tancat té forma de rectangle. Anomenem x a la base del rectangle i y a l'altura. Sabem que l'àrea del tancat és 8 m^2 , per tant, podem escriure:

$$x \cdot y = 8$$

Aïllant tenim que $y = \frac{8}{x}$.

El cost del tancat és $C(x, y) = 2,5 \cdot (2y + x)$. Substituint obtenim:

$$C(x) = 2,5 \cdot \left(2 \frac{8}{x} + x\right) = 2,5 \cdot \left(\frac{16 + x^2}{x}\right)$$

Per calcular el cost mínim, calcularem els extrems relatius de la funció $C(x)$, a partir de la primera derivada i igualant-la a 0:

$$C'(x) = 2,5 \cdot \left(\frac{2x \cdot x - (16 + x^2) \cdot 1}{x^2}\right) = 2,5 \cdot \left(\frac{x^2 - 16}{x^2}\right)$$

$$2,5 \cdot \left(\frac{x^2 - 16}{x^2}\right) = 0$$

$$x = \pm 4$$

Pel context del problema, només té sentit la solució positiva. Per comprovar si en $x = 4$ hi ha un mínim, calculem la segona derivada i observem el signe:

$$C''(x) = 2,5 \cdot \left(\frac{2x \cdot x^2 - (x^2 - 16) \cdot 2x}{x^4}\right) = 2,5 \cdot \left(\frac{2x^3 - (2x^3 - 32x)}{x^4}\right) = 2,5 \cdot \frac{32}{x^3}$$

Com que $C''(4) > 0$, en $x = 4$ hi ha un mínim.


Per tant, les dimensions del tancat seran de 4 m de base i 2 m d'altura.

El cost serà: $C(4) = 2,5 \cdot \left(\frac{16+4^2}{4}\right) = \boxed{20\text{€}}$



Proves d'accés a la Universitat 2023, convocatòria ordinària. Criteri d'avaluació

b) Per estalviar amb la tanca, podem posar el tancat a una cantonada del jardí:



Ara podem reproduir els càlculs fets a l'apartat a, amb la nova situació.

En aquest cas, el cost del tancat és $C(x, y) = 2,5 \cdot (y + x)$. Com que $y = \frac{8}{x}$:

$$C(x) = 2,5 \cdot \left(\frac{8}{x} + x \right) = 2,5 \cdot \left(\frac{8 + x^2}{x} \right)$$

Calculant la primera derivada i igualant-la a 0:

$$C'(x) = 2,5 \cdot \left(\frac{2x \cdot x - (8 + x^2) \cdot 1}{x^2} \right) = 2,5 \cdot \left(\frac{x^2 - 8}{x^2} \right)$$

$$2,5 \cdot \left(\frac{x^2 - 8}{x^2} \right) = 0$$

$$x = \pm\sqrt{8} = \pm 2\sqrt{2} \approx 2,83$$

Anàlogament, l'única solució que té sentit és la positiva. Per comprovar si en $x = 2\sqrt{2}$ hi ha un mínim, calculem la segona derivada i observem que el seu signe és positiu:

$$C''(x) = 2,5 \cdot \left(\frac{2x \cdot x^2 - (x^2 - 8) \cdot 2x}{x^4} \right) = 2,5 \cdot \left(\frac{2x^3 - (2x^3 - 16x)}{x^4} \right) = 2,5 \cdot \frac{16}{x^3}$$

Com que $C''(2\sqrt{2}) > 0$, en $x = 2\sqrt{2}$ hi ha un mínim.

L'altura del tancat serà $y = \frac{8}{2\sqrt{2}} = 2\sqrt{2}$.

Per tant, el tancat tindrà forma quadrada de costat $2\sqrt{2} \approx 2,83$ m.

En aquest cas el preu mínim serà

$$C(2\sqrt{2}) = 2,5 \cdot \left(\frac{8 + (2\sqrt{2})^2}{2\sqrt{2}} \right) = 2,5 \cdot \frac{16}{\sqrt{8}} = 2,5 \cdot 2\sqrt{8} = 14,14\text{€}$$



Per tant, tindríem un estalvi de $20 - 14,14 = \boxed{5,86 \text{ €}}$

Observació: qualsevol altra argumentació correcta serà considerada vàlida, encara que no es faci servir càlcul diferencial per arribar a la resposta, sempre que s'argumenti amb càlculs matemàtics.

Pautes de correcció:

- a) 0,25 punts per l'assignació de les variables i la lligadura d'igualtat de l'àrea.
0,25 punts per la funció cost.
0,25 punts per la derivada primera.
0,25 punts per l'abscissa del punt singular.
0,25 punts per argumentar que es tracta d'un mínim.
0,25 punts per les dimensions finals
0,25 punts pel cost mínim.

Observació: a l'hora de trobar el punt singular es pot utilitzar la funció $C(x)$ o bé la

funció $f(x) = \frac{16+x^2}{x}$.

- b) 0,25 punts per situar el tancat correctament i per la funció cost.
0,25 punts per la derivació, punt singular i justificació de mínim.
0,25 punts per les dimensions i el càlcul de l'estalvi.



6.

Resolució:

a) Com que el pla buscat és perpendicular a π_1 i π_2 , els seus vectors directores seran els vectors normals de π_1 i π_2 : $\vec{v}_1 = (1, 1, 0)$ i $\vec{v}_2 = (1, 0, -1)$.

Troblem l'equació general del pla amb vectors directores \vec{v}_1 i \vec{v}_2 i que passa pel punt $P = (4, 1, 2)$, en què $X(x, y, z)$ és un punt genèric del pla:

$$\begin{vmatrix} x-4 & 1 & 1 \\ y-1 & 1 & 0 \\ z-2 & 0 & -1 \end{vmatrix} = 0 \rightarrow \boxed{x - y + z - 5 = 0}$$

b) Busquem la solució del sistema $\begin{cases} x + y = 3 \\ x - z = -2 \end{cases}$. Aïllant obtenim:

$$y = 3 - x \rightarrow \text{Si } x = \lambda, \text{ tenim: } \begin{cases} x = \lambda \\ y = 3 - \lambda \\ z = 2 + \lambda \end{cases}$$

La recta buscada en forma vectorial és:

$$\boxed{r: (x, y, z) = (0, 3, 2) + \lambda \cdot (1, -1, 1), \lambda \in \mathbb{R}}$$

c)

Troblem l'equació del pla perpendicular a la recta r i que passa pel punt P . Aquest és el pla que ens han demanat en l'apartat a: $x - y + z - 5 = 0$.

En cas que no ens adonem que ja tenim el pla d'un apartat anterior, aquest pla tindrà com a vector normal el vector director de la recta. Per tant, serà de la forma:

$$x - y + z + D = 0.$$

Imposem que P estigui contingut en el pla: $4 - 1 + 2 + D = 0 \rightarrow D = -5$.

Ara hem de calcular el punt de tall de la recta L i el pla:

$$\begin{cases} x = \lambda \\ y = 3 - \lambda \\ z = 2 + \lambda \end{cases} \text{ i } x - y + z = 5 \rightarrow \lambda - (3 - \lambda) + (2 + \lambda) = 5 \rightarrow \lambda = 2$$

Substituint $\lambda = 2$ en les equacions paramètriques de la recta obtenim el punt :

$$\boxed{Q = (2, 1, 4)}.$$



De forma alternativa:

El punt Q és la projecció ortogonal del punt P sobre la recta r , ja que és el punt que està a menor distància de P .

Sigui Q un punt genèric de la recta r : $Q = (\lambda, 3 - \lambda, 2 + \lambda)$ i $\vec{v} = (1, -1, 1)$ el vector director de L .

Per la condició d'ortogonalitat tenim que $\overrightarrow{PQ} \cdot \vec{v} = 0$:

$$(-4 + \lambda, 2 - \lambda, \lambda) \cdot (1, -1, 1) = 0 \rightarrow -4 + \lambda - 2 + \lambda + \lambda = 0 \rightarrow \lambda = 2$$

Substituint $\lambda = 2$ al punt genèric Q obtenim les coordenades del punt: $Q = (2, 1, 4)$.

Pautes de correcció:

- a) 0,25 punts pels vectors directores.
0,25 punts per indicar com trobar el pla.
0,25 punts pel càlcul de l'equació.
- b) 0,25 punts per formular la resolució del sistema.
0,5 punts per trobar l'equació.
- c) 0,25 punts per indicar que el punt buscat és la projecció ortogonal.
0,25 punts pel punt genèric / per plantejar el sistema entre el pla i la recta.
0,25 punts pel producte escalar / per resoldre el sistema.
0,25 punts per trobar el punt.



SÈRIE 5

Criteris generals per a la correcció:

1. En tots els casos la resolució que fa l'estudiant s'ha de poder seguir i comprendre els passos que fa. Aquelles respostes, parcials o totals, que no estiguin desenvolupades o no es pugui seguir el com s'ha arribat a donar la resolució seran puntuades amb 0 punts.
2. La resolució proposada és, en alguns casos, una de les possibles i no és, en principi, única. Per tant, sempre que l'enunciat ho permeti, en el cas que l'estudiant respongui amb una resolució alternativa totalment correcta se li assignarà el total de puntuació de l'apartat. Si la resposta és parcial la puntuació obtinguda serà proporcional a la part corresponent de la puntuació total.
3. En alguns casos, la solució final pot admetre expressions equivalents. En aquests casos la puntuació serà la totalitat de la puntuació de l'apartat.
4. Tots els exercicis, apartats i passos dins d'un apartat es valoraran amb múltiples de 0,25 punts.
5. Penalització per errades de càlcul o transcripció:
6. Si l'errada que es comet no té més transcendència, aleshores NO es descomptarà res de la puntuació parcial de l'apartat.
7. En el cas que l'errada condueixi a derivacions paral·leles de l'enunciat, es valorarà i puntuarà el desenvolupament i coherència de la resolució resultant, i només s'aplicarà una penalització final de 0,25 punts.
8. En cas que l'errada condueixi a no tenir sentit alguna de les qüestions que es demanen, aleshores la puntuació màxima de l'apartat serà de 0,75 punts.
9. Si la resolució d'un apartat conté dues errades la puntuació de l'apartat serà l'acumulada fins al moment previ al cometre la segona errada.



Proves d'accés a la Universitat 2023, convocatòria ordinària. Criteri d'avaluació

1.

a)

Punts de tall: $-x^2 + x + 6 = -9x + 3x^2 \rightarrow 4x^2 - 10x - 6 = 0$

$$x = \frac{10 \pm \sqrt{(-10)^2 - 4 \cdot 4 \cdot (-6)}}{8} = \frac{10 \pm 14}{8} = \left\{ \begin{array}{l} 3 \\ -\frac{1}{2} \end{array} \right.$$

Comprovem la posició de cadascuna de les corbes:

A $(-\frac{1}{2}, 3)$ comprovem que $f(x) > g(x)$ per a qualsevol $x \in (-\frac{1}{2}, 3)$

$$\begin{aligned} A &= \int_{-\frac{1}{2}}^3 (f(x) - g(x)) dx = \int_{-\frac{1}{2}}^3 (-x^2 + x + 6 - (-9x + 3x^2)) dx = \\ &= \int_{-\frac{1}{2}}^3 (-4x^2 + 10x + 6) dx = \left[-\frac{4}{3}x^3 + 5x^2 + 6x \right]_{-1/2}^3 = \\ &= \left((-36 + 45 + 18) - \left(\frac{4}{24} + \frac{5}{4} - 3 \right) \right) = \left(27 - \left(-\frac{19}{12} \right) \right) = \boxed{\frac{343}{12} u^2} \end{aligned}$$

b)

Calculem la recta tangent a $f(x) = -x^2 + x + 6$ que passa pel punt $(-2,0)$:

El pendent ve donat per la derivada de la funció:

$$f'(x) = -2x + 1 \rightarrow f'(-2) = -2x + 1 = -2(-2) + 1 = 5$$

I passa pel punt $(-2,0) \rightarrow f(-2) = 0$

Així la recta tangent serà de la forma:

$$y = 5x + n \rightarrow 0 = 5(-2) + n \rightarrow n = 10$$

I tenim: $y = 5x + 10$

Per fer la representació gràfica observem que la recta $y = 5x + 10$ passa pels punts $(0,10)$ i $(-2,0)$.

La gràfica de la funció f és una paràbola amb les branques cap avall i el vèrtex en el punt de coordenades:

$$f(x) = -x^2 + x + 6 \rightarrow f'(x) = -2x + 1 = 0 \rightarrow x = \frac{1}{2} \rightarrow \left(\frac{1}{2}, \frac{27}{4} \right)$$



I els punts de tall amb l'eix d'abscisses són $(-2,0)$ i $(3,0)$ ja que:

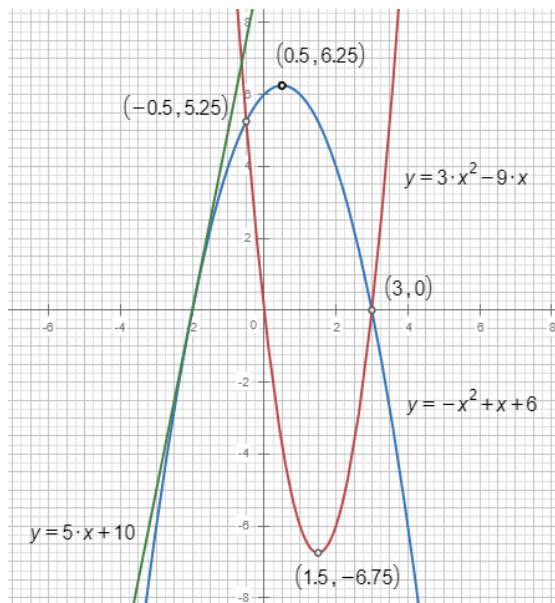
$$-x^2 + x + 6 = 0 \rightarrow x = -2 \text{ i } x = 3.$$

La gràfica de la funció g és una paràbola amb les branques cap amunt i el vèrtex en el punt de coordenades:

$$g(x) = -9x + 3x^2 \rightarrow g'(x) = -9 + 6x = 0 \rightarrow x = \frac{3}{2} \rightarrow \left(\frac{3}{2}, \frac{-27}{4}\right)$$

I els punts de tall amb l'eix d'abscisses són $(0,0)$ i $(3,0)$ ja que:

$$-9x + 3x^2 = 0 \rightarrow x = 0 \text{ i } x = 3.$$



Pautes de correcció:

- 0,5 punts per calcular les abscisses dels punts de tall de les dues funcions.
0,25 punts per plantejar l'àrea demanada com una integral definida.
0,25 punts pel càlcul de la primitiva.
0,25 punts per aplicar correctament la regla de Barrow i donar el resultat final.
- 0,5 punts per l'equació de la recta tangent demanada.
0,75 punts per la representació gràfica de les tres gràfiques, 0,25 punts per la gràfica de la recta i 0,25 punts per cada una de les paràboles.

2.

a)

Apliquem el mètode de Gauss, així tenim:

$$\left(\begin{array}{ccc|c} 1 & -1 & k & -1 \\ 1 & k & 1 & 3 \\ 2 & k-1 & 2 & 2 \end{array} \right)$$

Substituïm la fila 2, F2, per F2-F1, on F1 denota la primera fila, i la fila 3, F3, per F3-2F1, i obtenim

$$\left(\begin{array}{ccc|c} 1 & -1 & k & -1 \\ 1 & k & 1 & 3 \\ 2 & k-1 & 2 & 2 \end{array} \right) \sim \left(\begin{array}{ccc|c} 1 & -1 & k & -1 \\ 0 & k+1 & 1-k & 4 \\ 0 & k+1 & 2-2k & 4 \end{array} \right)$$

Substituïm F3 per F3 -F2 i s'obté

$$\left(\begin{array}{ccc|c} 1 & -1 & k & -1 \\ 0 & k+1 & 1-k & 4 \\ 0 & k+1 & 2-2k & 4 \end{array} \right) \sim \left(\begin{array}{ccc|c} 1 & -1 & k & -1 \\ 0 & k+1 & 1-k & 4 \\ 0 & 0 & 1-k & 0 \end{array} \right)$$

Distingim casos:

- $k \neq -1, k \neq 1$ tenim rang $M = \text{rang } MA = \text{número incògnites} = 3$ i per tant és un sistema compatible determinat (M denota la matriu del sistema i MA la matriu ampliada).
- $k = 1$ obtenim la matriu

$$\left(\begin{array}{ccc|c} 1 & -1 & 1 & -1 \\ 0 & 2 & 0 & 4 \\ 0 & 0 & 0 & 0 \end{array} \right)$$

Tenim rang $M = \text{rang } MA = 2$ i per tant és un sistema compatible indeterminat amb un grau de llibertat.

- $k = -1$ obtenim la matriu

$$\left(\begin{array}{ccc|c} 1 & -1 & -1 & -1 \\ 0 & 0 & 2 & 4 \\ 0 & 0 & 2 & 0 \end{array} \right)$$

Fem un pas més canviant la F3 per F3-F2 i obtenim la matriu

$$\left(\begin{array}{ccc|c} 1 & -1 & -1 & -1 \\ 0 & 0 & 2 & 4 \\ 0 & 0 & 0 & -4 \end{array} \right)$$

que correspon a un sistema incompatible ja que rang $MA = 3 > \text{rang } M = 2$.

Proves d'accés a la Universitat 2023, convocatòria ordinària. Criteri d'avaluació

b)

Recuperem els càlculs de l'apartat anterior.

Per a $k = 1$ obtenim $y = 2$ i $x = 1 - z$, per tant les solucions són de la forma $(x, y, z) = (1 - z, 2, z)$ o bé forma $(x, y, z) = (x, 2, 1 - x)$.

Per a $k = 0$ obtenim la matriu

$$\left(\begin{array}{ccc|c} 1 & -1 & 0 & -1 \\ 1 & 0 & 1 & 3 \\ 2 & -1 & 2 & 2 \end{array} \right)$$

I després de fer Gauss

$$\left(\begin{array}{ccc|c} 1 & -1 & 0 & -1 \\ 0 & 1 & 1 & 4 \\ 0 & 0 & 1 & 0 \end{array} \right)$$

I, per tant, la solució és $z = 0, y = 4$ i $x = 3$.

Pautes de correcció:

- a) 0,25 punts per la forma matricial del sistema.
0,5 punts per determinar els diferents casos que cal estudiar, sigui pel mètode de Gauss o pel càlcul de rangs per determinants.
0,75 punts pels tres casos (0,25 punts per cada cas).

- b) 0,5 punts per donar les solucions del cas $k = 0$.
0,5 punts per donar les solucions del cas $k = 1$.



3.

a)

Determinem el vector director i un punt de cada recta:

$$r: x = -y = z + m \rightarrow \left\{ \begin{array}{l} \vec{v}_r = (1, -1, 1) \\ P(0, 0, -m) \end{array} \right. \quad s: \left\{ \begin{array}{l} x + y = 1 \\ x - z = 0 \end{array} \right. \rightarrow \left\{ \begin{array}{l} \vec{v}_s = (1, 1, 0) \times (1, 0, -1) = (-1, 1, -1) \\ x = 1 \Rightarrow Q(1, 0, 1) \end{array} \right.$$

Com que $\vec{v}_r = \vec{v}_s$ els vectors directors de r i s són linealment dependents i les rectes seran o bé coincidents o bé paral·leles. Si són coincidents tenen tots els punts en comú, en concret $Q \in s$.

Comprovem si $Q \in r: 1 \neq -0 = 1 + m$

Com que no se satisfà per cap valor de m , podem assegurar que les rectes sempre seran paral·leles independentment de m .

b)

Calculem la distància entre les dues rectes:

$$d(P, S) = \frac{|\vec{v}_s \times \overrightarrow{PQ}|}{|\vec{v}_s|} = \frac{\begin{vmatrix} i & j & k \\ -1 & 1 & -1 \\ 1 & 0 & 1+m \end{vmatrix}}{\sqrt{3}} = \frac{|(1+m, m, -1)|}{\sqrt{3}} = \frac{\sqrt{(1+m)^2 + m^2 + 1}}{\sqrt{3}}$$

Calculem el valor de m per tal que sigui $\sqrt{2}$:

$$d(P, S) = \sqrt{2} \Leftrightarrow \frac{\sqrt{(1+m)^2 + m^2 + 1}}{\sqrt{3}} = \sqrt{2} \Leftrightarrow \sqrt{(1+m)^2 + m^2 + 1} = \sqrt{2} \sqrt{3} \Leftrightarrow (1+m)^2 + m^2 + 1 = 6 \Leftrightarrow 2m^2 + 2m - 4 = 0$$

D'on s'obtenen les solucions $m = 1$ i $m = -2$.

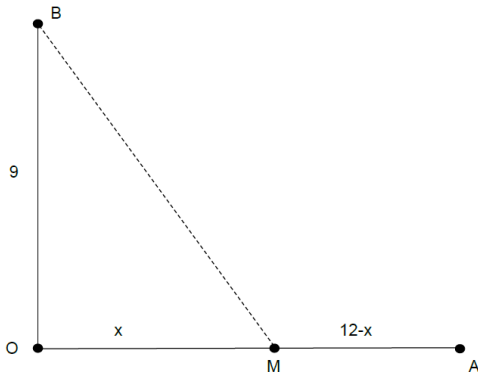
Pautes de correcció:

- a) 0,75 punts per determinar que les rectes són coincidents o paral·leles.
0,5 punts per justificar que són paral·leles per tot m .
- b) 0,75 punts per obtenir correctament la distància entre les dues rectes.
0,5 punts per resoldre correctament l'equació i determinar els dos valors de m .



4.

Si denotem per x la distància de l'encreuament a la torre, és a dir, $x = d(O, M)$, aleshores obtenim



Pel teorema de Pitàgores veiem que $d(B, M) = \sqrt{81 + x^2}$.

Així doncs el preu del cablejat serà vindrà donat per la funció

$$P(x) = 125(12 - x) + 250\sqrt{81 + x^2}.$$

Per trobar el preu mínim derivem la funció P :

$$P'(x) = -125 + 250 \cdot \frac{2x}{2\sqrt{81 + x^2}}$$

Resolent $P'(x) = 0$ obtenim $\sqrt{81 + x^2} = 2x$, i elevant les dues bandes al quadrat tenim

$81 + x^2 = 4x^2$, que té com a solució real positiva $x = \sqrt{27} = 3\sqrt{3}$ km. Per comprovar que és un mínim estudiem el signe de la derivada als intervals $(0, 3\sqrt{3})$ i $(3\sqrt{3}, 12)$. En el primer cas $P'(x) < 0$ i en el segon cas $P'(x) > 0$, per tant deduïm que el mínim de la funció P s'assoleix per a $x = 3\sqrt{3}$ km, és a dir, situant la torre a $3\sqrt{3}$ km = 5,2 km de l'encreuament.

Pautes de correcció:

- 0,5 punts pel plantejament del problema.
- 0,5 punts per determinar la funció cost que cal optimitzar.
- 0,5 punts pel càlcul de la derivada primera.
- 0,5 punts per determinar el candidat a mínim.
- 0,25 punts per justificar que, efectivament, correspon a un mínim.
- 0,25 punts pel valor del cost mínim.



5.

a)

$$\begin{pmatrix} 2 & 3 \\ 3 & 2 \end{pmatrix} \cdot \begin{pmatrix} 2 & 1 \\ 1 & 2 \end{pmatrix}^{-1} = \begin{pmatrix} 2 & 3 \\ 3 & 2 \end{pmatrix} \cdot \frac{1}{3} \cdot \begin{pmatrix} 2 & -1 \\ -1 & 2 \end{pmatrix} = \frac{1}{3} \cdot \begin{pmatrix} 1 & 4 \\ 4 & 1 \end{pmatrix} = \begin{pmatrix} \frac{1}{3} & \frac{4}{3} \\ \frac{4}{3} & \frac{1}{3} \end{pmatrix}$$

b)

Calculem el quadrat d'una matriu de la família \mathcal{S} i imposem que doni la matriu identitat:

$$A^2 = \begin{pmatrix} a & b \\ b & a \end{pmatrix} \cdot \begin{pmatrix} a & b \\ b & a \end{pmatrix} = \begin{pmatrix} a^2 + b^2 & 2ab \\ 2ab & a^2 + b^2 \end{pmatrix} = \begin{pmatrix} 1 & 0 \\ 0 & 1 \end{pmatrix}.$$

Veiem que cal $2ab = 0$ i $a^2 + b^2 = 1$. Veiem que hi ha 4 solucions: $a = 0$ i $b = \pm 1$ i $a = \pm 1, b = 0$. Per tant les 4 matrius possibles són:

$$\begin{pmatrix} 1 & 0 \\ 0 & 1 \end{pmatrix}, \begin{pmatrix} -1 & 0 \\ 0 & -1 \end{pmatrix}, \begin{pmatrix} 0 & 1 \\ 1 & 0 \end{pmatrix}, \begin{pmatrix} 0 & -1 \\ -1 & 0 \end{pmatrix}$$

Pautes de correcció:

- a) 0,75 punts pel càlcul de la matriu inversa.
0,5 punts pel producte de matrius.

- b) 0,5 punts pel càlcul de A^2 .
0,25 punts per donar les dues equacions per calcular a i b .
0,5 punts per les quatre matrius que són solució.



6.

a)

La funció derivada de $f(x)$ és $f'(x) = \frac{-x^2 + (2a-2b)x + 1}{(x^2+1)^2}$

Imposem la condició d'extrem relatiu $f'(-1) = 0 \rightarrow \frac{-1+2b-2a+1}{4} = 0 \rightarrow a = b$

Imposem que la funció passi pel punt $P = \left(-2, \frac{13}{5}\right)$

$$f(-2) = \frac{13}{5} \rightarrow \frac{4a - 2 + b}{5} = \frac{13}{5} \rightarrow 4a + b = 15$$

D'on es dedueix $a = b = 3$

b)

Per $a = b$ la derivada és $f'(x) = \frac{1-x^2}{(x^2+1)^2}$

Resolem $f'(x) = 0$ per trobar els possibles extrems relatius i obtenim $x = 1$,
 $x = -1$.

Com que $f'(-2) < 0$, $f'(0) > 0$, $f'(2) < 0$ deduïm que la funció té un mínim relatiu en $x = -1$ i un màxim relatiu en $x = 1$.

Pautes de correcció:

- a) 0,25 punts pel càlcul de la funció derivada.
0,25 punts per imposar la condició d'extrem i trobar una primera condició pels paràmetres.
0,25 punts per imposar que passi pel punt donat i trobar una segona condició.
0,5 punts per trobar els valors dels paràmetres a i b .

- b) 0,25 punts per donar la funció derivada en el cas demanat.
0,5 punts per trobar els dos candidats a extrems.
0,5 punts per donar i justificar on fa un mínim i on fa un màxim.